



تاریخ: ۱۴۰۱/۱۰/۱
 نام دبیر: استاد ابوالحسنی
 تعداد صفحات: ۴
 زمان امتحان: ۷۰ دقیقه

بسمه تعالی
 مدیریت آموزش و پرورش منطقه تهران
 دبیرستان سرانه غیر دولتی جماران
 نیمسال اول ۴۰۲-۴۰۱

امتحان درس: مطالعات اجتماعی
 پایه: نهم کلاس: /
 نام و نام خانوادگی:

الف: جمله صحیح را با ص و جمله غلط را با غ مشخص کنید. ۱ نمره

- (۱) دو فصل خشک و مرطوب، از ویژگی های زیست بوم بیابان می باشند. ()
- (۲) تاسیس مدرسه دارالفنون، از اقدامات میرزا تقی خان فراهانی است. ()
- (۳) به مکان دقیق قرار گرفتن یک پدیده، روی کره زمین، موقعیت مکانی گویند. ()
- (۴) یکی از عواملی که باعث افزایش یا کاهش جمعیت شهر تهران شده است مهاجرت می باشد. ()

ب: جاهای خالی را با کلمات مناسب پر کنید. ۱ نمره

- (۱) بوجود آمدن اختلاف ساعت از نتایج حرکت زمین می باشد.
- (۲) جنگ های دوره اول و دوم ایران با روسیه در زمان پادشاهی اتفاق افتاد.
- (۳) در قاره های آفریقا، آسیای جنوب شرقی، آمریکای جنوبی، زیست بوم دیده میشود.
- (۴) میزان طول عمر یا امید به زندگی در یک جامعه نشان دهنده وضعیت سلامت و آن جامعه می باشد.

ج: پاسخ درست را با علامت X (ضربدر) مشخص کنید. ۱ نمره

- (۱) به ترتیب قنات و بخار آب، کدام لایه تشکیل دهنده محیط زمین می باشد؟
 الف: آب کره_ هیدروسفر ب: لیتوسفر_ هیدروسفر
 ج: اتمسفر_ آب کره د: هیدروسفر_ جو
- (۲) کدام پادشاه صفویه توانست، پرتغالی ها را از جزایر و بنادر جنوبی ایران بیرون کند؟
 الف: شاه عباس دوم ب: شاه اسماعیل ج: شاه عباس اول د: شاه تهماسب
- (۳) پر سودترین کالای صادراتی ایران در زمان صفویه چه نام داشت؟
 الف: قالی و قالیچه ب: ابریشم ج: خشکیار د: انواع پارچه
- (۴) کدام یک از عوامل زیر باعث اعتدال دمای هوا در فصل زمستان و تابستان می شود؟
 الف: زاویه تابش خورشید ب: فشار هوا و باد ج: ارتفاع از سطح زمین د: اقیانوس ها و دریا ها

د: به سوالات زیر پاسخ کوتاه دهید. ۱ نمره

- (۱) یکی از دلایل کاربرد انرژی هسته ای در کشور ایران چیست؟
(۲) در زمان صفویه، عوارض را از چه کسانی می گرفتند؟
(۳) فتنه افغانها در زمان کدام پادشاه صفوی اتفاق افتاد؟
(۴) جابجایی یا حرکت خورشید در آسمان را چه می گویند؟

و: با توجه به سوالات زیر جدول را کامل کنید؟ ۱ نمره

								۱
								۲
								۳
								۴

- (۱) بلندترین فلات جهان چه نام دارد؟
(۲) در کدام زیست بوم جهان درخت وجود ندارد؟
(۳) در زمان کدام حکومت نفوذ و دخالت کشورهای، استعمارگر در ایران گسترش یافت؟
(۴) در زمان صفویه، اعتماد الدوله لقب چه کسی بود؟

ی: با استفاده از عبارات داخل پرانتز، پاسخ سئوالات را جلوی هر سوال بنویسید؟ ۱ نمره

- (آیه...میرزا حسن رشديه - شمسی - مهاجرت اجباری - جنگل های سوزنی برگ - آیه...میرزا حسن شیرازی - مهاجرت خارجی - رسمی - جنگل های بارانی استوایی)
- (۱) ریه های زمین ← () .
(۲) فتوای تحریم توتون و تنباکو ← () .
(۳) سال ۳۶۵ روز ۶۰ ساعت ← () .
(۴) حمله داعش به سوریه و عراق ← () .

ه: به سئوالات تشریحی زیر به صورت دقیق و کامل پاسخ دهید.

- (۱) نقش ارتفاع را در آب و هوای مناطق مختلف جهان بنویسید (۲ مورد) ۰/۵ نمره

-۱

-۲

- (۲) برای پی بردن به وضع آموزش در ایران چه معیارهایی وجود دارد؟ (۲ مورد) ۰/۵ نمره


-۱

-۲

۲) وقتی که در یک منطقه جنگل زدایی صورت میگیرد، چه مشکلاتی در آن منطقه بوجود می آید؟ ۰/۵ نمره

۴) مختصات زیر را روی شکل دقیق نشان دهید. ۰/۵ نمره

خط استوا



نصف النهار مبداء

A $\left| \begin{array}{l} 30^{\circ} \text{ W} \\ 50^{\circ} \text{ N} \end{array} \right.$

۵) مهاجرت مردم کشورهای جنوب غربی آسیا مانند سوریه و عراق و فلسطین به چه دلایلی صورت میگیرد؟ (۲ مورد) ۰/۵ نمره

۶) چرا جنگل های بارانی استوایی بر آب و هوای کل سیاره زمین اثر می گذارد؟ ۰/۵ نمره

۷) مهمترین عواملی که باعث تخریب زیستگاه ها می شود ۲ مورد را بنویسید؟ ۰/۵ نمره

جزوه نسیپی

-۱

-۲

۸) کدام پادشاه صوریه، پایتخت صفویان را به قزوین انتقال داد؟ چرا؟ ۰/۷۵ نمره

۹) به نظر شما، گرم شدن کره زمین ممکن است چه پیامدهایی داشته باشد؟ (۳ مورد) ۰/۷۵ نمره

جنس و ترکیب	مدار گردش	
		سیارات درونی
		سیارات بیرونی

۱۰) سیارات درونی و بیرونی را در موارد خواسته شده مقایسه کنید. ۱ نمره

۱۱) دو اقدام عباس میرزا را کامل بنویسید؟ ۱ نمره

-۱

-۲

۱۲) شهر تهران بر اثر مهاجرت از روستا به این شهر، رشد سریعی داشته است، به نظر شما هم اکنون شهر تهران دارای چه مشکلاتی است؟ (۳ مورد) ۰/۷۵ نمره

۱۳) اعتدالین را تعریف کنید و انواع اعتدالین را نام ببرید؟ ۱ نمره

تعریف ←

انواع ←

۱۴) تفاوت ساوان و بیابان را بنویسید. ۱ نمره

ساوان ←

بیابان ←

۱۵) وضعیت اقتصادی دو کشور ژاپن و سوریه را با یکدیگر مقایسه کنید. ۱ نمره

ژاپن ←

سوریه ←

۱۶) عوامل گسترش تجارت ایران در عصر صفویه را بیان کنید. (۲ مورد) ۱ نمره

۱-

۲-

۱۷) شکست ایران و معاهدات خسارت بار گلستان و ترکمانچای، تحت تاثیر چه عواملی بوده است؟ (۴ مورد) ۱ نمره

۱۸) کوه های بلند و کم ارتفاع را در موارد خواسته شده با یکدیگر مقایسه کنید. ۱/۲۵ نمره

شیب دامنه ها	دره ها	قله ها	
			کوه های بلند
			کوه های کم ارتفاع

موفق باشید: ابوالحسنی



کلاس: نهم

شماره لیست:

نام دبیر: آقای ابراهیم حسینی

باسخنامه آزمون:

مطالعات اجتماعی

- الف ۱- غ (ساوان) ۲- ص ۳- ص ۴- ص
- ب جای خالی ← ۱- وضعی (چرخش) ۲- فتعلی شاه ۳- جنگل هابارانی استوایی ۴- بهداشت
- ج چهارگزینه‌ای ← ۱- د ۲- ج ۳- ب ۴- د
- د پاسخ کوتاه ← ۱- کاربرد پزشکی (گمک به کاهش آلودگی) ۲- کاروان های تجاری ۳- شاه سلطان حسین ۴- حرکت ظاهری آفتاب
- و جدول ← ۱- بت ۲- توندرا ۳- قاجاریه ۴- وزیر بزرگ
- ی انتخاب عبارت درست ← ۱- جنگل های بارانی استوایی ۲- آیتا... هیزز احسن تشریحی ۳- شمسی (خورشیدی) ۴- مهاجرت اجباری
- ۱ (تشریحی) ← ۱- هر چه از سطح زمین بالاتر، رویم دمای هوا کم می شود. ۲- ارتفاعات گوه ها، از نفوذ توده های مرطوب بیه آن سوی خود جلوگیری می کنند. ۳- ارتفاعات جهت وزش پادها، تغییر می دهند. (ذکر دو مورد)
- ۲ ۱- میزان باسوادی بزرگسالان در ایران ۲- میانگین سال های تحصیل دانش آموزان در کشور ایران ۳- تعداد معلم به ازای دانش آموزان. (ذکر دو مورد)
- ۳ ۱- دی اکسید کربن زیاد وارد جو می شود. ۲- اثرات گازهای گلخانه ای زیاد در زمین گرم تر می شود
- ۴
- ۵ ۱- شرایط جنگ ۲- اشغال نظامی کشورها، میان توسط اسرائیل و آمریکا
- ۶ زیرا این جنگ ها حدود ۵۰ درصد اکسیژن زمین + ۵۰ درصد رطوبت چورا تولید می کنند
- ۷ ۱- فعالیت های صنعتی و تولید انبوه کالا در کارخانه ها ۲- مصرف گرایی و تولید انبوه زباله ۳- شکار و تجارت اعضای حیوانات ۴- ایجاد و گسترش شهرها و روستاها، ساختن پل و جاده و ساختمان ها، رسل بدون برنامه ریزی. (آمورد)
- ۸ شاه تهماسب - زیرا تبریز همیشه در معرض حمله سپاه عثمانی بود.
- ۹ ۱- ذوب شدن یخ های قطبی ۲- بالا آمدن آب دریا ۳- زیر آب رفتن نواحی ساحلی و جزیره ها ۳- افزایش و طولانی شدن دوره خشکسالی در نواحی گرم و خشک ۴- افزایش سیلاب (آمورد)

جنس و ترکیب	مدار گردش	
جامد و سنگی	کوتاه	سیارات درونی
گازی	بلند	سیارات بیرونی

- ۱۱- فرستادن افرادی به انگلستان برای یادگیری انواع علوم و فنون جدید (فنی- نظامی- پزشکی)
 ۲- برای آگاهی از اوضاع کشورهای اروپایی، دستور داد کتابهایی را در موضوع تاریخ آن کشورها را به زبان فارسی ترجمه کنند. (انمره)
- ۱۲- ترافیک سنگین + آلوده گی هوا + افزایش اختلاف طبقاتی + زاغه نشین در اطراف شهر + افراد بی خانمان یا کارتن خواب ها. (۳ مورد) ۷۵/۷۵ نمره
- ۱۳- تعریف ← در دو موقع از سال طول روز و شب برابر می شود که به آن اعتدالین گویند.
 انواع ← اول بهار (فروردین) + اول پاییز (مهر) (انمره)
- ۱۴- ساوان ← منطقه علفزار + پادختان تک و منفرد + که در مجاورت جنگل های بارانی استوایی قرار دارد.
 بیابان ← سرزمین های خشکی + که میزان بارندگی سالیانه آنها کمتر از ۵۰ میلی متر باشد. (انمره)
- ۱۵- از نیمه دوم قرن بیستم میلادی رشد سریعی داشته و با توسعه صنایع + صدور کالا به سایر کشورهای جهان جایگاه مهمی در اقتصاد جهانی پیدا کرده است * (۱) ← سوریه:
 به دلیل بحران های سیاسی + جنگ تحمیل شده رشد اقتصادی مطلوبی نداشته و تولید در آمد این کشور کاهش یافته است. (انمره)
- ۱۶- یکا چه بودن سرزمین ایران آ- وجود نظم و امنیت در سراسر کشور * وجود شبکه وسیعی از راه ها و کاروان سراها. (ذکر دو مورد) انمره
- ۱۷- اضعف در فرماندهی و بخش از لشکر آ- خیانت برخی از باربان ۳- گوشه گیری برخی از شخصیت ها
 کار آمد مانند میز اقامت مقام فراهانی ۴- فریب کاری روس ها ۵- میانجیگری خائنانه انگلستان (۴ مورد) انمره

قله ها	دره ها	تشیب دامنه ها
توگ تیز	تنگ یا اشکل	تند
گنبدی شکل		ملازم

موفق و پیروز باشید: (۹۰) امتداد



تاریخ: ۱۴۰۱/۱۰/۱
 نام دبیر: استاد ابوالحسنی
 تعداد صفحات: ۴
 زمان امتحان: ۷۰ دقیقه

بسمه تعالی
 مدیریت آموزش و پرورش منطقه تهران
 دبیرستان سرانه غیر دولتی جماران
 نیمسال اول ۴۰۲-۴۰۱

امتحان درس: مطالعات اجتماعی
 پایه: نهم کلاس: ۱
 نام و نام خانوادگی:

الف: جمله صحیح را با ص و جمله غلط را با غ مشخص کنید. ۱ نمره

- (۱) دو فصل خشک و مرطوب، از ویژگی های زیست بوم بیابان می باشند. ()
- (۲) تاسیس مدرسه دارالفنون، از اقدامات میرزا تقی خان فراهانی است. ()
- (۳) به مکان دقیق قرار گرفتن یک پدیده، روی کره زمین، موقعیت مکانی گویند. ()
- (۴) یکی از عواملی که باعث افزایش یا کاهش جمعیت شهر تهران شده است مهاجرت می باشد. ()

ب: جاهای خالی را با کلمات مناسب پر کنید. ۱ نمره

- (۱) بوجود آمدن اختلاف ساعت از نتایج حرکت زمین می باشد.
- (۲) جنگ های دوره اول و دوم ایران با روسیه در زمان پادشاهی اتفاق افتاد.
- (۳) در قاره های آفریقا، آسیای جنوب شرقی، آمریکای جنوبی، زیست بوم دیده میشود.
- (۴) میزان طول عمر یا امید به زندگی در یک جامعه نشان دهنده وضعیت سلامت و آن جامعه می باشد.

ج: پاسخ درست را با علامت X (ضربدر) مشخص کنید. ۱ نمره

- (۱) به ترتیب قنات و بخار آب، کدام لایه تشکیل دهنده محیط زمین می باشد؟
 الف: آب کره_ هیدروسفر ب: لیتوسفر_ هیدروسفر
 ج: اتمسفر_ آب کره د: هیدروسفر_ جو
- (۲) کدام پادشاه صفویه توانست، پرتغالی ها را از جزایر و بنادر جنوبی ایران بیرون کند؟
 الف: شاه عباس دوم ب: شاه اسماعیل ج: شاه عباس اول د: شاه تهماسب
- (۳) پر سودترین کالای صادراتی ایران در زمان صفویه چه نام داشت؟
 الف: قالی و قالیچه ب: ابریشم ج: خشکیار د: انواع پارچه
- (۴) کدام یک از عوامل زیر باعث اعتدال دمای هوا در فصل زمستان و تابستان می شود؟
 الف: زاویه تابش خورشید ب: فشار هوا و باد ج: ارتفاع از سطح زمین د: اقیانوس ها و دریا ها

د: به سوالات زیر پاسخ کوتاه دهید. ۱ نمره

- (۱) یکی از دلایل کاربرد انرژی هسته ای در کشور ایران چیست؟
(۲) در زمان صفویه، عوارض را از چه کسانی می گرفتند؟
(۳) فتنه افغانها در زمان کدام پادشاه صفوی اتفاق افتاد؟
(۴) جابجایی یا حرکت خورشید در آسمان را چه می گویند؟

								۱
								۲
								۳
								۴

و: با توجه به سوالات زیر جدول را کامل کنید؟ ۱ نمره

- (۱) بلندترین فلات جهان چه نام دارد؟
(۲) در کدام زیست بوم جهان درخت وجود ندارد؟
(۳) در زمان کدام حکومت نفوذ و دخالت کشورهای، استعمارگر در ایران گسترش یافت؟
(۴) در زمان صفویه، اعتماد الدوله لقب چه کسی بود؟

ی: با استفاده از عبارات داخل پرانتز، پاسخ سئوالات را جلوی هر سوال بنویسید؟ ۱ نمره

- (آیه...میرزا حسن رشديه - شمسی - مهاجرت اجباری - جنگل های سوزنی برگ - آیه...میرزا حسن شیرازی - مهاجرت خارجی - رسمی - جنگل های بارانی استوایی)
- (۱) ریه های زمین ← () .
(۲) فتوای تحریم توتون و تنباکو ← () .
(۳) سال ۳۶۵ روز ۶۰ ساعت ← () .
(۴) حمله داعش به سوریه و عراق ← () .

ه: به سئوالات تشریحی زیر به صورت دقیق و کامل پاسخ دهید.

- (۱) نقش ارتفاع را در آب و هوای مناطق مختلف جهان بنویسید (۲ مورد) ۰/۵ نمره

-۱

-۲

- (۲) برای پی بردن به وضع آموزش در ایران چه معیارهایی وجود دارد؟ (۲ مورد) ۰/۵ نمره


-۱

-۲

۲) وقتی که در یک منطقه جنگل زدایی صورت میگیرد، چه مشکلاتی در آن منطقه بوجود می آید؟ ۰/۵ نمره

۴) مختصات زیر را روی شکل دقیق نشان دهید. ۰/۵ نمره

خط استوا



نصف النهار مبداء

A 30° W
 50° N

۵) مهاجرت مردم کشورهای جنوب غربی آسیا مانند سوریه و عراق و فلسطین به چه دلایلی صورت میگیرد؟ (۲ مورد) ۰/۵ نمره

۶) چرا جنگل های بارانی استوایی بر آب و هوای کل سیاره زمین اثر می گذارد؟ ۰/۵ نمره

۷) مهمترین عواملی که باعث تخریب زیستگاه ها می شود ۲ مورد را بنویسید؟ ۰/۵ نمره

جزوه سستی

-۱

-۲

۸) کدام پادشاه صوریه، پایتخت صفویان را به قزوین انتقال داد؟ چرا؟ ۰/۷۵ نمره

۹) به نظر شما، گرم شدن کره زمین ممکن است چه پیامدهایی داشته باشد؟ (۳ مورد) ۰/۷۵ نمره

جنس و ترکیب	مدار گردش	
		سیارات درونی
		سیارات بیرونی

۱۰) سیارات درونی و بیرونی را در موارد خواسته شده مقایسه کنید. ۱ نمره

۱۱) دو اقدام عباس میرزا را کامل بنویسید؟ ۱ نمره

-۱

-۲

۱۲) شهر تهران بر اثر مهاجرت از روستا به این شهر، رشد سریعی داشته است، به نظر شما هم اکنون شهر تهران دارای چه مشکلاتی است؟ (۳ مورد) ۰/۷۵ نمره

۱۳) اعتدالین را تعریف کنید و انواع اعتدالین را نام ببرید؟ ۱ نمره

تعریف ←

انواع ←

۱۴) تفاوت ساوان و بیابان را بنویسید. ۱ نمره

ساوان ←

بیابان ←

۱۵) وضعیت اقتصادی دو کشور ژاپن و سوریه را با یکدیگر مقایسه کنید. ۱ نمره

ژاپن ←

سوریه ←

۱۶) عوامل گسترش تجارت ایران در عصر صفویه را بیان کنید. (۲ مورد) ۱ نمره

۱-

۲-

۱۷) شکست ایران و معاهدات خسارت بار گلستان و ترکمانچای، تحت تاثیر چه عواملی بوده است؟ (۴ مورد) ۱ نمره

۱۸) کوه های بلند و کم ارتفاع را در موارد خواسته شده با یکدیگر مقایسه کنید. ۱/۲۵ نمره

شیب دامنه ها	دره ها	قله ها	
			کوه های بلند
			کوه های کم ارتفاع

موفق باشید: ابوالحسنی




کلاس: نهم

شماره لیست:

نام دبیر: آقای ابراهیم حسینی

باسخنامه آزمون:

مطالعات اجتماعی

- الف ۱- غ (ساوان) ۲- ص ۳- ص ۴- ص
- ب جای خالی ← ۱- وضعی (چرخش) ۲- فتعلی شاه ۳- جنگل هابارانی استوایی ۴- بهداشت
- ج چهارگزینه‌ای ← ۱- د ۲- ج ۳- ب ۴- د
- د پاسخ کوتاه ← ۱- کاربرد پزشکی (گمک به کاهش آلودگی) ۲- کاروان های تجاری ۳- شاه سلطان حسین ۴- حرکت ظاهری آفتاب
- و جدول ← ۱- بتا ۲- توندرا ۳- قاجاریه ۴- وزیر بزرگ
- ی انتخاب عبارت درست ← ۱- جنگل های بارانی استوایی ۲- آیتا... هیزز احسن تشریحی ۳- شمسی (خورشیدی) ۴- مهاجرت اجباری
- ۱ (تشریحی) ← ۱- هر چه از سطح زمین بالاتر، رویم دمای هوا کم می شود. ۲- ارتفاعات کوه ها، از نفوذ توده های مرطوب به آن سوی خود جلوگیری می کنند. ۳- ارتفاعات جهت وزش پادها، تغییر می دهند. (ذکر دو مورد)
- ۲ ۱- میزان باسوادی بزرگسالان در ایران ۲- میانگین سال های تحصیل دانش آموزان در کشور ایران ۳- تعداد معلم به ازای دانش آموزان. (ذکر دو مورد)
- ۳ ۱- دی اکسید کربن زیاد وارد جو می شود ۲- اثرات گازهای گلخانه ای زیاد در زمین گرم تر می شود
- ۴ 
- ۵ اشراط جنگ ۲- اشغال نظامی کشورها، شان توسط اسرائیل و آمریکا
- ۶ زیرا این جنگ ها حدود ۵۰ درصد اکسیژن زمین + ۵۰ درصد رطوبت چورا تولید می کنند
- ۷ ۱- فعالیت های صنعتی و تولید انبوه کالا در کارخانه ها ۲- مصرف گرایی و تولید انبوه زباله ۳- شکار و تجارت اعضای حیوانات ۴- ایجاد و گسترش شهرها و روستاها، ساختن پل و جاده و ساختمان ها، سد بدون برنامه ریزی. (۲ مورد)
- ۸ شاه تهماسب - زیرا تبریز همیشه در معرض حمله سپاه عثمانی بود.
- ۹ ۱- ذوب شدن یخ های قطبی ۲- بالا آمدن آب دریا ۳- زیر آب رفتن نواحی ساحلی و جزیره ها ۳- افزایش و طولانی شدن دوره خشکسالی در نواحی گرم و خشک ۴- افزایش سیلاب (۳ مورد)

جنس و ترکیب	مدار گردش	
جامد و سنگی	کوتاه	سیارات درونی
گازی	بلند	سیارات بیرونی

- ۱۱- فرستادن افرادی به انگلستان برای یادگیری انواع علوم و فنون جدید (فنی- نظامی- پزشکی)
 ۲- برای آگاهی از اوضاع کشورهای اروپایی، دستور داد کتابهایی را در موضوع تاریخ آن کشورها را به زبان فارسی ترجمه کنند. (انمره)
- ۱۲- ترافیک سنگین + آلوده گی هوا + افزایش اختلاف طبقاتی + زاغه نشین در اطراف شهر + افراد بی خانمان یا کارتن خواب ها. (۳ مورد) ۷۵/۷۵ نمره
- ۱۳- تعریف ← در دو موقع از سال طول روز و شب برابر می شود که به آن اعتدالین گویند.
 انواع ← اول بهار (فروردین) + اول پاییز (مهر) (انمره)
- ۱۴- ساوان ← منطقه علفزار + پادختان تک و منفرد + که در مجاورت جنگل های بارانی استوایی قرار دارد.
 بیابان ← سرزمین های خشکی + که میزان بارندگی سالیانه آنها کمتر از ۵۰ میلی متر باشد. (انمره)
- ۱۵- از نیمه دوم قرن بیستم میلادی رشد سریعی داشته و با توسعه صنایع + صدور کالا به سایر کشورهای جهان جایگاه مهمی در اقتصاد جهانی پیدا کرده است * (۱) ← سوریه:
 به دلیل بحران های سیاسی + جنگ تحمیل شده رشد اقتصادی مطلوبی نداشته و تولید در آمد این کشور کاهش یافته است. (انمره)
- ۱۶- ۱- یکبارچه بودن سرزمین ایران آن وجود نظم و امنیت در سراسر کشور * وجود شبکه وسیعی از راه ها و کاروان سراها. (ذکر دو مورد) (انمره)
- ۱۷- اضعف در فرماندهی و بخش از لشکر ۱- خیانت برخی از باریان ۲- گوشه گیری برخی از شخصیت ها
 کار آمد مانند میز اقامت مقام فراهانی ۴- فریب کاری روس ها ۵- میانجیگری خائنانه انگلستان (۴ مورد) (انمره)

قله ها	دره ها	تشیب دامنه ها
توگ تیز	تنگ یا اشکل	تند
گنبدی شکل		ملازم

موفق و پیروز باشید: (۹۰) امتداد